



CENTRO EDUCACIONAL CRIARTE

DATA : ___/___/ 2020

ALUNO(A) : _____

5º ANO

MATEMÁTICA

PROFESSORA: KRIS

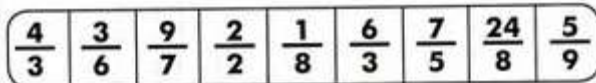
Valor: 2,0

Nota: ___

ATIVIDADE AVALIADA 2º BIMESTRE

1- Observe as frações e responda:

0,3



- a) Quais são as frações próprias? _____
b) Quais são as frações impróprias? _____
c) Quais são as frações aparentes? _____

2- Escreva os números naturais representados pelas frações:

0,4

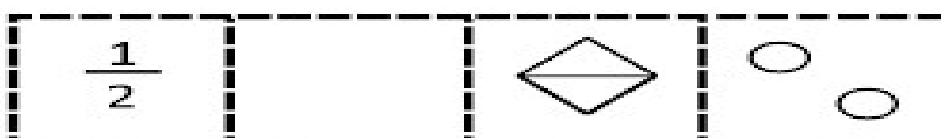
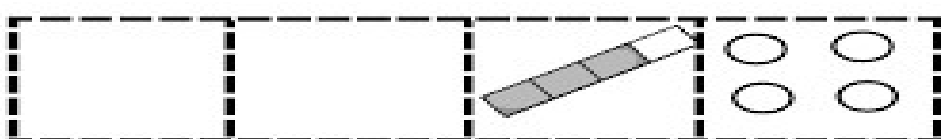
A) $\frac{8}{8} = \square$ C) $\frac{14}{7} = \square$

B) $\frac{9}{3} = \square$ D) $\frac{24}{4} = \square$

3- Observe o modelo e complete os quadros.

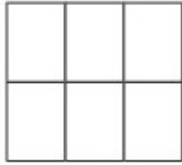
0,6

Fração Leitura Representação Quantidade



- 4- Tânia preparou uma torta e a dividiu em 6 partes iguais. Renato comeu 2 partes, Lucas comeu 2 partes e Fernando comeu 1 parte. Pinte as partes que cada um comeu e responda:

0,4	
-----	--



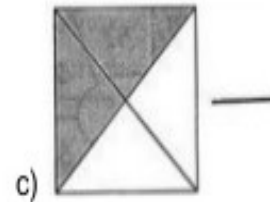
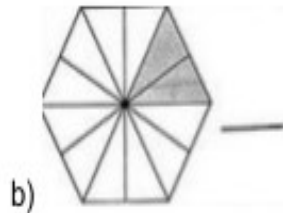
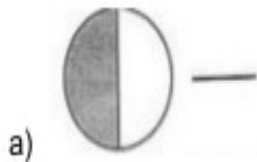
a) Escreva qual fração da torta cada um comeu.

Tânia: ____ Renato: ____ Fernando : ____

b) Que fração sobrou da torta? ____

- 5- Observe as figuras abaixo e escreva que fração corresponde a parte pintada:

0,3	
-----	--



BOA SORTE!!!